

PEMERINTAH KOTA DEPOK
DINAS PENDIDIKAN

ULANGAN KENAIKAN KELAS
SEKOLAH MENENGAH PERTAMA (SMP)
Tahun Pelajaran 2011/2012

LEMBAR SOAL

Mata Pelajaran : Seni Budaya
Kelas : VII (Tujuh)
Hari, Tanggal : Rabu, 13 Juni 2012
Waktu : 90 menit

PETUNJUK :

1. Disediakan Lembar Jawaban Komputer (LJK)
2. a. LJK dipergunakan untuk jawaban Soal Pilihan Ganda.
b. Tulislah dengan jelas : Nama Anda, Nomor Peserta Anda, Sekolah Asal, Tanggal Ulangan Kenaikan Kelas, Jam ke, Tanda tangan, dan menghitamkan bulatan kecil pada LJK sesuai dengan petunjuk.
c. Jawaban dikerjakan dengan cara menghitamkan bulatan kecil sesuai dengan jawaban yang Anda anggap benar.
d. Apabila ada jawaban yang keliru dan Anda ingin memperbaikinya, hapuslah jawaban yang keliru itu dengan menggunakan karet penghapus pensil, kemudian hitamkan bulatan kecil lain sesuai dengan jawaban yang Anda anggap benar.
e. LJK jangan sampai rusak, basah atau kotor
3. Periksa dan bacalah soal-soal sebelum Anda menjawabnya.
4. Laporkan kepada Pengawas Ulangan Kenaikan Kelas kalau terdapat tulisan yang kurang jelas, rusak atau jumlah soal kurang.
5. Jumlah soal sebanyak : Pilihan ganda 40 soal, Uraian 5 soal
6. Dahulukan menjawab soal-soal yang Anda anggap mudah
7. Mintalah kertas buram kepada pengawas Ulangan Kenaikan Kelas, bila diperlukan
8. Periksalah pekerjaan Anda sebelum Anda serahkan kepada pengawas Ulangan Kenaikan Kelas.

SELAMAT BEKERJA


I Pilihan Ganda

1. Karya seni berikut berasal dari daerah ..




- A. Jawa Barat
- B. Jawa Tengah
- C. Jawa Timur
- D. Bali

2. Karya seni pada gambar tersebut termasuk karya seni rupa terapan



- A. Satu dimensi
- B. Dua dimensi
- C. Tiga dimensi
- D. Empat dimensi

3. Perhatikan karya berikut :




Batik tersebut berasal dari daerah yang merupakan penghasil batik terkenal di Jawa Tengah yaitu

- A. Sragen
- B. Jepara
- C. Purwodadi
- D. Pekalongan

4. Contoh menggambar bentuk dengan model secara tidak langsung...
- A. Mencontoh gambar atau foto di majalah
 - B. Mencontoh model benda asli
 - C. Menggambar dengan ingatan
 - D. Menjiplak gambar yang sudah jadi

5. Perhatikan gambar berikut:



Gambar tersebut dibuat dengan prinsip menggambar bentuk yaitu ...

- A. Proporsi
- B. Komposisi
- C. Perspektif
- D. Kesatuan

6. Media menggambar :

- 1. Krayon
- 2. Spidol
- 3. Tinta bak
- 4. Pensil warna

Yang termasuk media kering untuk menggambar bentuk ...

- A. No 1,2 dan 3
- B. No 1,2 dan 4
- C. No 1,3 dan 4
- D. No 2,3 dan 4

7. Media menggambar :

- 1. Konte
- 2. Cat air
- 3. Acrilik
- 4. Ecolin

Yang termasuk media basah untuk menggambar bentuk

- A. No 1,2 dan 3
- B. No 1,2 dan 4
- C. No 1,3 dan 4
- D. No 2,3 dan 4

8. Perhatikan gambar berikut...



Gambar tersebut dibuat dengan teknik ...

- A. Arsir
- B. Pointilis
- C. Dussel
- D. Siluet (blok)

9. Seni kriya yang berfungsi untuk benda pajangan dan lebih menonjolkan segi rupa daripada fungsinya disebut...

- A. Grafis
- B. Benda terapan
- C. Benda mainan
- D. Hiasan (Dekorasi)

10.



Benda pada gambar tersebut menurut fungsi seni kriya termasuk golongan...

- A. Hiasan (Dekorasi)
- B. Grafis
- C. Benda terapan
- D. Benda mainan

11. Perhatikan karya berikut...

- 1. Mosaik
- 2. Kolase
- 3. Guci
- 4. Batik

Yang termasuk contoh seni kriya dua dimensi yaitu ...

- A. No 1,2 dan 3
- B. No 1,2 dan 4
- C. No 1,3 dan 4
- D. No 2,3 dan 4


12. Perhatikan karya berikut :



Karya dalam gambar tersebut menggunakan bahan dasar ...

- A. Logam
- B. Kayu
- C. Rotan
- D. Tanah liat

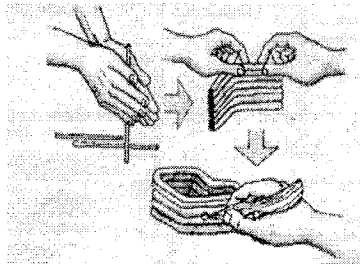
13. Perhatikan karya berikut:



Karya tersebut termasuk kerajinan ...

- A. Logam
- B. Keramik
- C. Kayu
- D. Anyaman


14. Perhatikan gambar berikut :



Teknik pembuatan patung pada gambar tersebut disebut teknik ...

- A. Pahat
- B. Pilin
- C. Las
- D. Butsir

15.




Kerajinan pada gambar tersebut terbuat dari bahan dasar ...

- A. Kayu
- B. Logam
- C. Kulit
- D. Bambu

16. Sebelum membuat seni kriya yang sesungguhnya terlebih dahulu harus dibuat ...

- A. Pola
- B. Model
- C. Sketsa
- D. Desain

17.



Objek dari karya tersebut bercorak...

- A. Geometris
- B. Non geometris
- C. Flora
- D. Fauna

18. Menurut jenisnya pameran kelas dan pameran sekolah termasuk

- A. Pameran homogen
- B. Pameran Tunggal
- C. Pameran umum
- D. Pameran Khusus

19. Seksi pameran yang bertugas mengatur dan membuat ruang pameran menjadi lebih indah dan menarik yaitu seksi ...

- A. Dekorasi
- B. Penyeleksi
- C. konsumsi
- D. Publikasi

20. Pada kegiatan pameran perlengkapan yang digunakan untuk meletakkan karya seni dua dimensi disebut ...

- A. Katalog
- B. Brosur
- C. Sketsel
- D. Level

21. Salah satu ciri musik daerah yang ada di Indonesia adalah ...

- A. diatonik
- B. dinamis
- C. sederhana
- D. populer

22. Musik yang lahir dari budaya daerah setempat disebut juga dengan musik...

- A. Klasik
- B. Tradisional
- C. Non Tradisional
- D. Kontemporer

23. Calung termasuk alat musik tradisional yang terbuat dari...

- A. Logam
- B. Daun lontar
- C. Kayu
- D. Bambu


24. Tarling adalah jenis musik tradisional yang berasal dari ...

- A. Jakarta
- B. Cirebon
- C. Aceh
- D. Madura

25. Gamelan sandur adalah gamelan yang berasal dari ...

- A. Bali
- B. Jawa Tengah
- C. Jawa Barat
- D. Madura

26. Kendang menurut sumber bunyinya termasuk alat musik...



- A. Membranophone
- B. Idiophone
- C. Chordophone
- D. Aerophone

27. Kulintang adalah alat musik tradisional yang mengiringi lagu daerah Sulawesi utara yang berbentuk...

- A. Tabung
- B. Pencon
- C. Bilah
- D. Dawai

28. Tokoh musik dan dalang legendaris yang menciptakan lagu *Gambang Suling* adalah...

- A. Nyoman Nuarta
- B. Daeng Sutigna
- C. Waljinah
- D. Ki Narto sabdo

29. Berdasarkan sejarahnya, dahulu Angklung Kenekes mempunyai fungsi...

- 1. Upacara adat sunda
- 2. Pemujaan dewi Sri
- 3. Mengiringi pesta panen padi
- 4. Upacara keagamaan

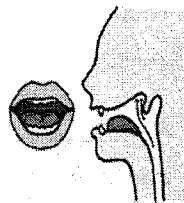
Pernyataan yang benar adalah;

- A. No 1, 2, dan 3
- B. No 1, 2 dan 4
- C. No 1, 3 dan 4
- D. No 2, 3 dan 4

30. Musik daerah Riau yang erat hubungannya dengan nuansa Islam adalah...

- A. Orkes melayu
- B. Gambang Kromong
- C. Gendang Cianjuran
- D. Orkes Gambus

31. Perhatikan gambar berikut ini!



Bentuk mulut tersebut menghasilkan bunyi vocal...

- A. Vocal a
- B. Vokal i
- C. Vokal u
- D. Vokal e

32. Salah satu teknik vocal untuk mendapatkan suara yang bulat dan kuat dapat dilakukan dengan membuka mulut selebar...

- A. Tiga jari secara vertical
- B. Tiga jari secara horizontal
- C. Dua jari secara vertical
- D. Dua jari secara horizontal

33. Dalam menyanyi, teknik pernapasan yang paling baik digunakan adalah...

- A. Dada (Costal)
- B. Perut (Abdonal)
- C. Diafragma
- D. Hidung

34. Perhatikan syair berikut:


...Anak manis janganlah dicium sayang
Kalau dicium merahlah pipinya.

Syair tersebut cuplikan dari lagu...

- A. Angin Mamiri
- B. Suwe Ora Jamu
- C. Pakarena
- D. Soleram

35. Karya musik yang disajikan hanya alat musik saja disebut...

- A. Kanon
- B. Akapella
- C. Instrumentalia
- D. Vokal

36. 

Garis lengkung pada lagu di tersebut dinamakan...

- A. Legato
- B. Stacato
- C. Ligatura
- D. Fermata

37. Lagu Tokecang dari Jawa Barat dinyanyikan dengan dinamika...

- A. Agiato (gembira)
- B. Con amore (dengan perasaan kasih)
- C. Con Expresionis (dengan penuh perasaan)
- D. Con Bravura (dengan gagah perkasa)

38. Panitia pertunjukan yang bertugas menyusun kegiatan dalam sebuah pentas disebut ...

- A. Seksi dekorasi
- B. Seksi dokumentasi
- C. Seksi acara
- D. Seksi akomodasi

39. 

Notasi balok tersebut memiliki tanda birama ...

- A. Birama 2/4
- B. Birama 3/4
- C. Birama 4/4
- D. Birama 6/8

40. Cara pengucapan kata-kata dalam bernyanyi disebut

- A. Intonasi
- B. Apresiasi
- C. Resonansi
- D. Artikulasi

II. ESSAY

41. Buatlah gambar bentuk kreasimu sendiri dengan mengambil objek alam (misalnya bunga, pohon atau buah-buahan), gunakan teknik arsir !
42. Buatlah sebuah rancangan (desain) seni kriya dengan corak ragam hias daerah setempat!
43. Buatlah susunan kepanitiaan pameran kelas dalam bentuk organigram !
44. Sebutkan tiga jenis arransemen yang kalian ketahui !
45. Sebutkan alat musik tradisional dari Jawa Barat (4 alat musik tradisional) !